



*Hiçbir Őeye ihtiyaçımız yok,  
yalnız bir Őeye ihtiyaçımız vardır:  
çalışkan olmak.*





## İSTİKLAL MARŞI

Korkma, sönmez bu şafaklarda yüzen al sancak;  
Sönmeden yurdumun üstünde tüten en son ocak.  
O benim milletimin yıldızıdır, parlayacak;  
O benimdir, o benim milletimindir ancak.

Çatma, kurban olayım, çehreni ey nazlı hilal!  
Kahraman ırkıma bir gül... Ne bu şiddet, bu celal!  
Sana olmaz dökülen kanlarımız sonra helal;  
Hakkıdır, Hakk'a tapan, milletimin istiklal.

Ben ezelden beridir hür yaşadım, hür yaşarım.  
Hangi çılgın bana zincir vuracakmış? Şaşarım!  
Kükremiş sel gibiyim: Bendimi çiğner, aşarım;  
Yırtarım dağları, enginlere sığmam taşarım.

Garb'ın afakını sarmışsa çelik zırhlı duvar;  
Benim iman dolu göğsüm gibi serhaddim var.  
Ulusun, korkma! Nasıl böyle bir imanı boğar,  
"Medeniyet!" dediğin tek dişi kalmış canavar?

Arkadaş! Yurduma alçakları uğratma sakın;  
Siper et gövdeni, dursun bu hayasızca akın.  
Doğacaktır sana va'dettiği günler Hakk'ın...  
Kim bilir, belki yarın, belki yarından da yakın.

Bastığın yerleri "toprak!" diyerek geçme, tanı!  
Düşün altındaki binlerce kefensiz yatanı.  
Sen şehid oğlusun, incitme, yazıktır, atanı:  
Verme, dünyaları alsan da, bu cennet vatanı.

Kim bu cennet vatanın uğruna olmaz ki feda?  
Şüheda fışkıracak toprağı sıksan, şüheda!  
Canı, cananı, bütün varımı alsın da Hüda,  
Etmesin tek vatanımdan beni dünyada cüda.

Ruhumun senden İlahi şudur ancak emeli:  
Değmesin mabedimin göğsüne namahrem eli;  
Bu ezanlar-ki şehadetleri dinin temeli-  
Ebedi, yurdumun üstünde benim inlemeli.

O zaman vecd ile bin secde eder varsa taşım;  
Her cerihamda, İlahi, boşanıp kanlı yaşım,  
Fışkırır ruh-i mücerred gibi yerden na'şım!  
O zaman yükselerek Arş'a değer, belki, başım.

Dalgalar sen de şafaklar gibi ey şanlı hilal!  
Olsun artık dökülen kanlarımın hepsi helal.  
Ebediyen sana yok, ırkıma yok izmihlal:  
Hakkıdır, hür yaşamış, bayrağımın hürriyet;  
Hakkıdır, Hakk'a tapan, milletimin istiklal.

Mehmet Akif ERSOY

# SUNUŞ

Nitelikli bir hayat, iyi bir lise ve iyi bir üniversiteden başlar. O da Millî Eğitim Bakanlığının uyguladığı merkezi sınavlardan geçer.

8. sınıf "MENTOR" serisi soru bankaları kitaplarımız öğrencilerimizin eğitim ve öğretim hayatlarını en yararlı şekilde geçirebilmeleri adına birçok önemli unsurun bir araya getirildiği, alanında seçkin öğretmenler tarafından hazırlanmış özel bir settir.

"MENTOR" serisi soru bankalarımız, **Millî Eğitim Bakanlığı Talim ve Terbiye Kurulu** tarafından açıklanan müfredata bire bir uyumlu olarak hazırlanmıştır.

8. sınıf öğrencileri için hazırlanan serimiz **Türkçe, Matematik, Fen Bilimleri, TC. İnkılap Tarihi ve Atatürkçülük** olmak üzere dört kitaptan oluşmaktadır.

8. sınıf düzeyindeki kitaplar ünite esasına dayalı olarak hazırlanmış, yeni nesil sorulara yer verilmiştir.

Kitaplarımızın tümü yeni sınav sistemine uygun sorulardan oluşmaktadır.

8. sınıf soru bankalarımızın başta öğretmen ve öğrencilerimiz olmak üzere bütün eğitim camiasına fayda getirmesi temennisi ile...

**FİDES YAYINLARI**



# İÇİNDEKİLER

|  |     |
|--|-----|
| 1. Ünite: Görsel Okuma - Grafik ve Tablo Yorumlama ..... | 5   |
| 2. Ünite: Sözel Mantık .....                             | 33  |
| 3. Ünite: Sözcükte Anlam .....                           | 47  |
| 4. Ünite: Deyim – Atasözü .....                          | 79  |
| 5. Ünite: Cümlede Anlam.....                             | 89  |
| 6. Ünite: Paragrafta Anlam .....                         | 125 |
| 7. Ünite: Metne Bağlı Sorular .....                      | 179 |
| 8. Ünite: Fiilimsiler .....                              | 189 |
| 9. Ünite: Cümlenin Öğeleri .....                         | 209 |
| 10. Ünite: Fiilde Çatı .....                             | 225 |
| 11. Ünite: Cümle Türleri.....                            | 241 |
| 12. Ünite: Anlatım Bozuklukları .....                    | 251 |
| 13. Ünite: Yazım Kuralları.....                          | 259 |
| 14. Ünite: Noktalama İşaretleri .....                    | 275 |
| 15. Ünite: Metin Türleri ve Söz Sanatları.....           | 287 |
| Cevap Anahtarı.....                                      | 307 |



## Görsel Okuma Grafik ve Tablo Yorumlama

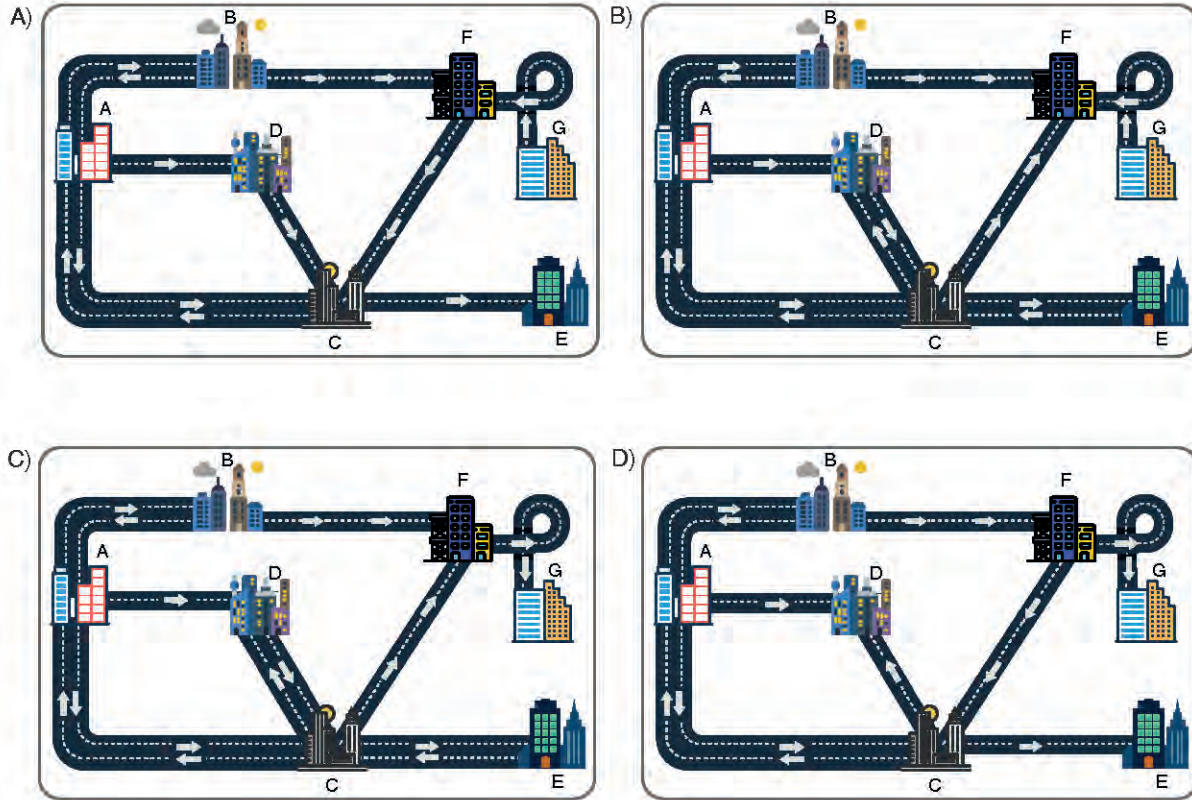


1. Emre, A,B,C,D,E,F ve G şehirlerinin ulaşım haritasını gösteren bir görsel hazırlamak istemektedir. Bu şehirlerin ulaşımıyla ilgili bilinenler şunlardır:

- A şehrinden B şehrine ve C şehrine çift yönlü, D şehrine tek yönlü yol vardır.
- C şehrinden D şehrine ve E şehrine çift yönlü, F şehrine ise tek yönlü yol vardır.
- B şehrinden F şehrine ve F şehrinden G şehrine tek yönlü yol vardır.

Emre, çift yönlü yolları  simgesiyle, tek yönlü yollar ise  simgesiyle göstermiştir. Okun yönü ulaşımın ne tarafa yapıldığını belirtmektedir.

**Bu bilgilere göre Emre'nin hazırladığı doğru görsel aşağıdakilerden hangisidir?**



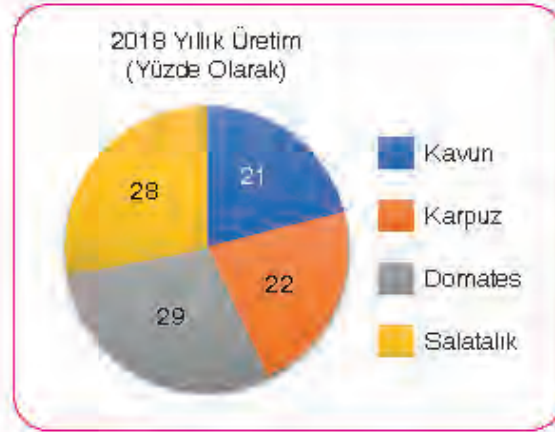
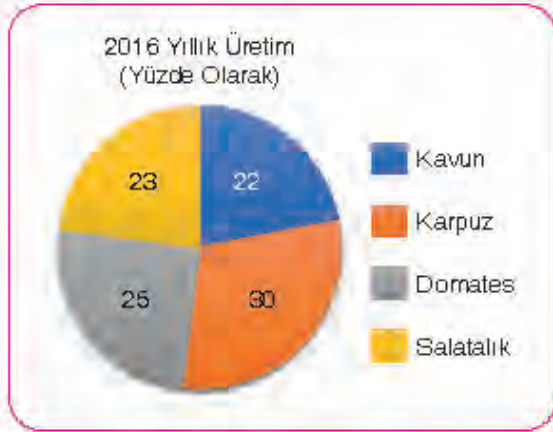
2.

Ben bütün çocuklara şiir türünü sevdirmek istiyorum. Çocuk beşikte tanıştığı ninnilerle ilk şiirlerini dinlemeye başlar aslında. Tekerlemelerle devam eder bu yolculuk. Çocuklar şiirlerde uyaklı sözleri çok sever, tekrarlayan dizeler, masal özellikleri çocukların hoşuna gider. Çocuklarımızı daha okuma yazma öğrenmeden önce şiirle tanıştırebiliriz. Çocukların yaş gruplarına uygun şiirler olursa çok hoşlandıklarına tanık olacağız.

**Böyle söyleyen bir şair aşağıdaki şiirlerden hangisini yazmış olamaz?**

- A) Affan Dede'ye para saydım,  
Sattı bana çocukluğumu.  
Artık ne yaşıam var ne adım,  
Bilmiyorum kim olduğumu.
- B) Karnım aç  
Karnına kapak aç  
Değirmene kaç  
Değirmenin kapısı kitli  
Hey başı bitli
- C) Kargalar, sakın anneme söylemeyin!  
Bugün toplar atılırken evden kaçıp  
Harbiye nezaretine gideceğim.  
Söylemezseniz size macun alırım,  
Simit alırım, horoz şekeri alırım;  
Sizi kayık salıncağa bindiririm kargalar!
- D) Dünyada yapılmamış işler çoktur çocuğum  
Derlerse ki bu işler bir şeye yaramaz  
De ki bütün işe yarayanlar  
İşe yaramaz sanılanlardan çıkar

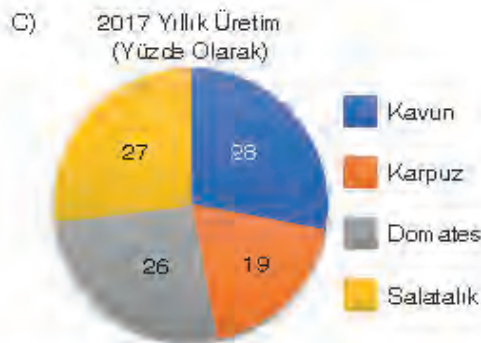
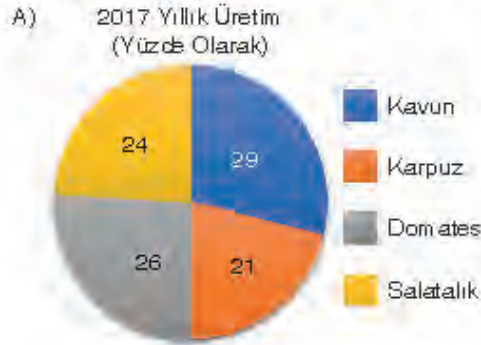
3. Aşağıda, bir ülkedeki dört tarım ürününün 2016 ve 2018 yıllarındaki üretim oranlarının grafikleri ile bu ürünlerin 2017 yılına ait üretim bilgileri verilmiştir.



2017 yılında,

- Domates üretimi, 2016 ve 2018 yılları arasındaki oranda kalmıştır.
- Salatalık üretimi bir önceki dönemden fazla ama bir sonraki dönemden azdır.
- Kavun üretimi liderliğe yükselmiş ama karpuz üretimi ikinci olamamıştır.
- 2016 yılına göre bütün ürünlerin sıralamadaki yeri değişmiştir.

Buna göre 2017 yılının sebze ve meyve üretim grafiği aşağıdakilerden hangisidir?





4. **Deneme:** Bir insanın herhangi bir konuda duygu, düşünce ve görüşlerini paylaşmak amacıyla kesin hükümlere varmadan samimi bir üslupla yazdığı yazılara denir.

**Masal:** Halkın ortak yaratısı olarak ağızdan ağıza, kuşaktan kuşağa aktarılan, cin, peri, dev gibi olağanüstü kişileri de olan, olağanüstü olaylara yer veren yazılara denir.

**Hikâye:** Yaşanmış veya tasarlanmış bir olayı, bir durumu; yer, kişi ve zaman belirterek anlatan kısa yazılara denir.

**Buna göre aşağıdakilerden hangisi verilen türlerden herhangi birinin örneği değildir?**

- A) Üstümde bollenmiş kot pantolonum, sırtıma yapışmış uçuk mavi tişörtümle tüm gün dolandım tozlu sokaklarda. Yazacağım bir şeyi düşünüp duruyordum. Derken şimşekler çakmaya başladı, gökyüzü iyice karardı, rüzgâr saçımı birbirine kattı. Koşarak evime döndüm. Tam kapının zilini çalarken anlatamayacağım bir yağmur başladı, oracıkta sırlıklam oldum.
- B) Asık suratlı insanlardan hoşlanır mısınız desem tabii bana gülersiniz. Zaten ben de biraz gülmeniz için söze böyle başladım. Güler yüze ve gülmeye dair olan bu konuşmayı asık suratla dinlemenizi istemem tabii. Konuşurken söze başladığınız sırada karşınızdakinin kaşlarını çattığını, asık bir suratla sizi dinlediğini görürseniz konuşma hevesiniz kırılır.
- C) Bir zamanlar yoksul bir kadın rüyasında aksakallı bir ihtiyar görmüş. İhtiyar, eğer kediler sultanını bulabilirse yoksulluktan kurtulacağını söylemiş. O sırada geniş bir avluya düşmüş. Burada birçok kedi varmış. Kediler yemek pişiriyorlarmış. Kadın “Kediler sultanını biliyor musunuz?” diye sormuş. Kediler hiç konuşmadan elleriyle yukarı katı göstermişler.
- D) Varlık yayınları arasında küçük bir kitap daha çıktı: *Orhan Veli'nin Bütün Şiirleri*. Yaşar Nabi iyi etmiş bunu düşündüğüne, zaten bu işle uğraşmak en çok ona düşerdi. Orhan Veli'yi de, arkadaşlarını da Varlık dergisinde o tanıtmıştı. Ancak tamam değil o kitap. Orhan Veli'nin bende bir defteri vardır, o defterdeki şiirlerinin birkaçı bu kitapta yok gibi geliyor bana. Doğrusu, eksiklerin büyük bir önemi yok çünkü çok iyi bir iş çıkarmışlar bu kitapta.

5. Aşağıda bir bilgisayar oyunu ve oyundaki bazı düğmelerin görevleri açıklanmıştır:

**Hareket**

Düğmedeki ok işareti karakterin hangi yönde ilerleyeceğini belirtir.









Sayı ise karakterin kaç kutu gideceğini belirtir.

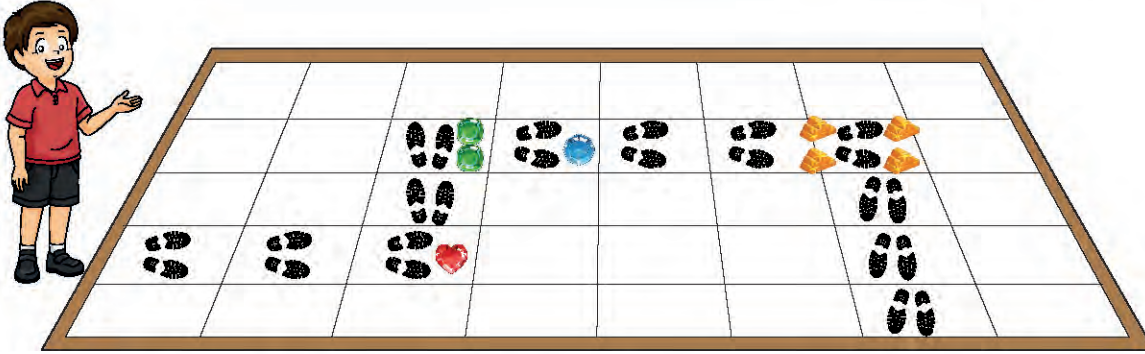
**Bırakılan Nesne**

Düğmedeki sembol hangi nesneyi yere bırakacağını belirtir.





































Düğmedeki sayı ise nesneden kaç adet bırakacağını belirtir.

**Sembol ve Nesneler**

|   |   |   |   |   |   |
|---|---|---|---|---|---|
|  | → |  |  | → |  |
|  | → |  |  | → |  |

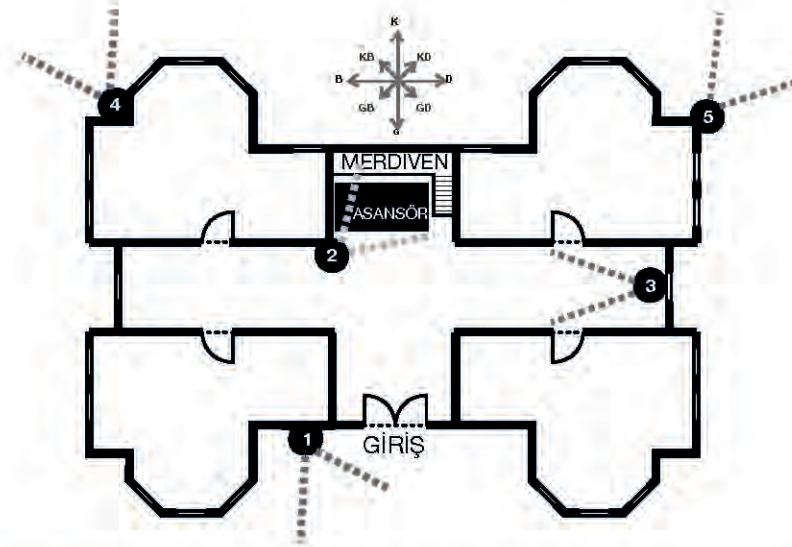


Yukarıdaki bilgilerden ve görseldeki adım izlerinden hareketle sırasıyla hangi düğmelere basılmıştır?

- A)         
- B)         
- C)         
- D)         



6. Bir apartman yöneticisi, apartmanlarının güvenliği için kamera sistemi taktırmak ve apartmana giren kişilerin karanlıkta da tanınabilmesini istemektedir. Asansör ve merdivenler için dış görünüşü güzel bir kamera, iç kısımdaki diğer alanda ise sabit ve çok fazla özelliği olmayan bir kamera olmasından yanadır. Apartmanın kuzeybatısındaki alan için çok pahalı olmayan, ek olarak korumaya ihtiyaç duymayacağı bir kamera ve kuzeydoğusundaki alan için ise gerektiğinde kuzeyi gerektiğinde de doğuyu görebileceği bir kamera istemektedir. Apartmanın krokisi ve yaptığı araştırmalar sonucunda bulunduğu kameraların özellikleri şöyledir:



**Kutu Kameralar:** En eski kamera türü kutu kameradır. Hava koşullarına uygun olmayan bu kameraların uygun hâle getirilebilmesi için kamerayı bir gövdenin (kamera muhafazasının) içine monte etmeniz gerekir.



**Kubbe (Dome) Kameralar:** Günümüzde çokça kullanılan bir güvenlik kamerasıdır. Kubbe kameralar daha çok estetik bir görünüme sahip olduklarından iç ortamlarda tercih edilmektedir. Diğer güvenlik kamerası çeşitlerine göre daha az masraflıdır.



**Hızlı Kubbe Kameralar (PTZ):** PTZ kameralar, kubbe kameralara benzese de aslında kubbe kameralar ile teknik bir benzerliği yoktur. Bu kameralar aşağı yukarı ve sağa sola dönüş yapabilme özelliğine sahiptir. Genellikle dış ortamlarda kullanılır. Kontrol klavyeleri sayesinde istenilen yöne çevrilebilir. Özelliklerinden dolayı biraz daha masraflı olabilir.



**Gece Görüş Güvenlik Kameraları (IR):** Son birkaç yıldır çokça kullanılmaya başlayan bir güvenlik kamerasıdır. Bu kameralar sıfır ışıktaki görüntü almasına imkân tanır. En büyük özelliklerinden biri de korumaya sahip olmaları, ilave lens ve ayak gibi ekipmanlara gereksinim duymamaları ve ekonomik olmalarından dolayı ciddi talep görmektedir.

**Bu bilgilere göre yöneticinin seçeceği kameralar, krokide belirtilen numaralı alanların sırasına bağlı olarak hangi seçenekte doğru verilmiştir?**

A)



B)



C)



D)



7.



Yukarıda bir odada bulunan ampuller ve renkleri verilmiştir.









Bu ampuller tek bir kumanda ile kontrol edilmekte ve kumandaya her basıldığında ampullerin renkleri birer sıra kaymaktadır. Örneğin, kumandaya bir defa basıldığında ampullerin renkleri sırasıyla pembe, mavi, kırmızı ve yeşil olacaktır.

**Buna göre kumandaya dört defa basıldığında ampullerin renkleri aşağıdakilerden hangisi gibi olur?**





8.

| Tarih               | Hadise  | Tahmin Edilen |           |          |           |   |     |
|---------------------|---|---------------|-----------|----------|-----------|---|-----|
|                     |   | Sıcaklık (°C) |           | Nem (%)  |           | Rüzgâr (km/sa)  |     |
|                     |   | En Düşük      | En Yüksek | En Düşük | En Yüksek | Yön   | Hız |
| 08 Aralık Pazar     |  | 7             | 16        | 57       | 84        |  | 6   |
| 09 Aralık Pazartesi |  | 6             | 17        | 57       | 82        |  | 3   |
| 10 Aralık Salı      |  | 6             | 16        | 81       | 84        |  | 11  |
| 11 Aralık Çarşamba  |  | 10            | 16        | 71       | 89        |  | 13  |
| 12 Aralık Perşembe  |  | 9             | 16        | 75       | 92        |  | 4   |

Tablo 1: Aydın iline ait 5 günlük hava tahmini

|   |                              |   |                 |
|---|------------------------------|---|-----------------|
|    | Açık                         |    | Az bulutlu      |
|    | Parçalı bulutlu              |    | Çok bulutlu     |
|   | Hafif yağmurlu               |   | Yağmurlu        |
|  | Kuvvetli yağmurlu            |  | Sağanak yağışlı |
|  | Gökgürültülü sağanak yağışlı |  | Kar yağışlı     |

Tablo 2: Hava tahminlerinde kullanılan simgelerin anlamları

**Bu bilgilere göre 07 Aralık Cumartesi günü yapılan aşağıdaki hava tahminlerinden hangisinde yanlışlık yapılmıştır?**

- A) Aydın ilinde önümüzdeki üç gün boyunca hava sıcaklığının çok fazla değişmemesi bekleniyor. Pazar ve pazartesi günü az bulutlu olan hava salı günü çok bulutlu olacağı tahmin ediliyor. Pazar günü rüzgârın hızının saatte 6 km olması bekleniyor.
- B) Çarşamba gününün gök gürültülü sağanak yağışlı geçmesi ve sıcaklığın en düşük 10 derece, en yüksek 16 derece olması bekleniyor. Rüzgârın hızının da bir önceki güne göre biraz daha artacağı ve yönünün değişmeyeceği tahmin ediliyor.
- C) Pazartesi günü az bulutlu geçecek havada sıcaklığın 6 ila 17 derece arasında olması ve nem oranının bir önceki güne göre çok fazla değişmemesi bekleniyor. Rüzgârın şiddetinin saatte 3 km olacağı tahmin ediliyor.
- D) Perşembe günü yağışların dinmesi bekleniyor. Genellikle çok bulutlu olacak havada sıcaklığın bir önceki güne oranla çok fazla değişmeyeceği tahmin ediliyor. Nem oranının artacağı ve rüzgârın hızının azalacağı tahmin ediliyor.

9.



“İki karşıt düşüncenin daha önce belirlenmiş bir jüri önünde iki farklı grup tarafından tartışılmasına münazara denir.”

Derya, okulunda yapılacak olan münazara etkinliklerinde trafikte yaşanan sorunların giderilmesinde para cezalarına oranla eğitimin daha önemli olduğunu anlatan ikna edici bir konuşma hazırlamak istemektedir.

Derya'ya yardımcı olmaya çalışan arkadaşlarının önerileri şunlardır:

- I. Trafik kazalarının sebepleriyle ilgili bir araştırma yapmalı ve araştırma sonuçlarını istatistiksel olarak belirtmelisin.
- II. Trafik sorunlarında para cezalarının özellikle maddi kaygı gütmeyen insanlar için caydırıcı olmayacağına değinmelisin.
- III. Ülkemizde bir yılda para cezasına çarptırılan sürücü sayısını araştırmalı ve mutlaka buna değinmelisin.
- IV. Eğitim düzeyi birbirinden farklı iki ülkedeki trafik sorunları karşılaştırıp görüşünü destekleyen örnekler bulup sunmalısın.

**Verilen önerilerden hangileri Derya'nın ikna edici konuşma hazırlamasına kesin olarak yardımcı olur?**

A) I ve III

B) II ve IV

C) II ve III

D) III ve IV



10. Aşağıda Romen rakamlarının oluşturulmasıyla ilgili bilgiler içeren bir görsel verilmiştir:

## ROMEN RAKAMLARI

Romen rakamlarında sayılar I, V, X, L, C, D, M harflerinin farklı şekillerde diziliminden oluşturulur.

|       |       |        |        |         |         |          |
|-------|-------|--------|--------|---------|---------|----------|
| I - 1 | V - 5 | X - 10 | L - 50 | C - 100 | D - 500 | M - 1000 |
|-------|-------|--------|--------|---------|---------|----------|

Bir sayının sağına kendisinden küçük bir sayı gelirse büyük sayıya eklenir.  
Örnek: LII sayısı  $L + I + I$  yani  $50 + 1 + 1 = 52$ 'dir.

Bir sayının soluna kendisinden küçük bir sayı gelirse büyük sayıdan küçük sayı çıkarılır.  
Örnek: XL sayısı  $L - X$  yani  $50 - 10 = 40$ 'tır.

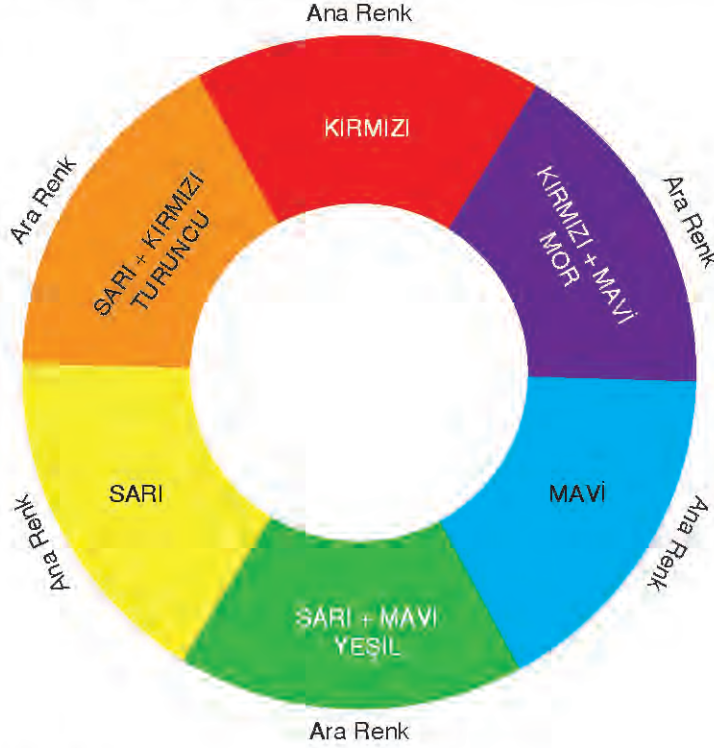
I, X, C ve M sayılarını ifade eden semboller en çok üç kere yan yana yazılabilir.  
Örnek: LXXX = 80 ( $50 + 10 + 10 + 10$ ) veya 40 sayısı, XXXX olarak değil XL olarak yazılır.

V, L, D sayıları iki ya da daha fazla kez yan yana yazılamaz. Bu sayılar kendisinden büyük bir sayının sağına bir kez yazılabilir, soluna yazılamaz.  
Örnek: 95 sayısı VC olarak değil XCV olarak yazılır.

Bu görseldeki bilgilere göre aşağıdaki Romen rakamlarından hangisi yanlış oluşturulmuştur?

- A) CCXVI = 216
- B) DCCVL = 745
- C) CCLV = 255
- D) DCCVI = 706

11. Bir resim yapmak isteyen Mehmet, hangi rengi kullanacağına karar verememiştir. Her cümlenin bir rengi temsil ettiği fiilimsilerle ilgili aşağıdaki cümleleri okuyan Mehmet, içinde sıfat-fiil bulunan cümlelerin yandaki şekilde belirtilen renk veya renklerini kullanarak bir resim yapmaya karar vermiştir. Mehmet resminde tek renk olacaksa ana renk, iki renk olacaksa ara renk kullanacaktır. Mehmet resme başlamadan önce şu tanıma rastlar: "Fiillere eklendiğinde onları sıfat yapıp hareket anlamını devam ettiren ekler sıfat-fiil ekleridir. Bu ekleri alan fiiller sıfat-fiil olur."



Cümleler ve temsil ettiği renkler:

**Kırmızı** : Kanatlarını açmadıkça onlarla ne kadar uçacağını fark edemezsin.

**Sarı** : Güneş gibi parlamak istiyorsan önce onun gibi yanmalısın.

**Mavi** : Başarı her gün tekrarlanan küçük çabaların toplamıdır.

**Turuncu** : Mutlu olmak istiyorsan sen de mutlu edeceksin.

**Buna göre içinde sıfat-fiil geçen cümleyi veya cümleleri bulan Mehmet resminde hangi rengi kullanmıştır?**

- A) Mavi
- B) Mor
- C) Yeşil
- D) Turuncu

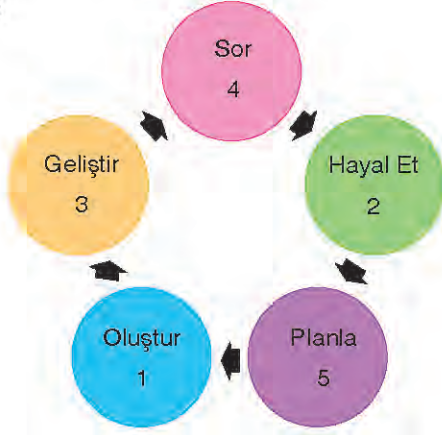


12. Elif, aşamalardan oluşan bir yöntemle model tren yapmayı planlamaktadır. Bu aşamalar: Sor, hayal et, planla, oluştur ve geliştir olarak 5'e ayrılmaktadır. Aşağıda Elif'in yapmayı planladığı model trenle ilgili aşamaların bilgileri karışık olarak verilmiştir.

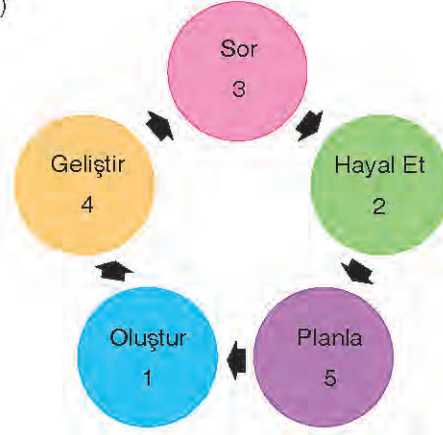
1. Malzemeleri kullanmaya başlayın. Kullandığınız malzemelerin sonucunda ortaya çıkan ürünün çalışıp çalışmadığını kontrol edin.
2. Tasarımınızla ilgili tüm fikirlerinizi gözden geçirin. Bunları birlikte çalıştığınız kişiler varsa onlarla paylaşın. Bunların olumlu ve olumsuz yanlarını tartışın.
3. Model treninizi düşünmeye ilk başladığınızda karşılaşılabileceğiniz durumları düşünün. Örneğin model treniniz rayda gidecek mi? Başka hangi kısıtlayıcılar var?
4. Model treninizin çalışmasında sorun varsa sorunun kaynağını araştırın. Hata varsa nerede hata yapmış olabileceğinizi kendinize sorun. Sorunu çözmek için çözüm yolları düşünün.
5. Tasarımla ilgili fikirlerinizi netleştirin. Gerekli olan malzemeleri hazırlamaya başlayın. Bu aşamada yapacağınız model treninizin resmini çizebilirsiniz. Model treninize bir ad verin ve logo tasarlayın

**Buna göre yukarıda karışık olarak verilenin cümlelerin numaraları "Sor, Hayal Et, Planla, Oluştur ve Geliştir" olan döngülerin içine yazıldığında doğru şekil aşağıdakilerden hangisidir?**

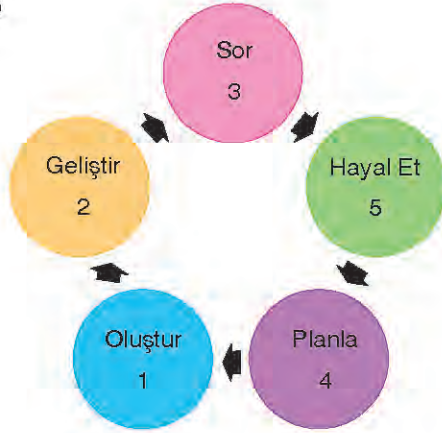
A)



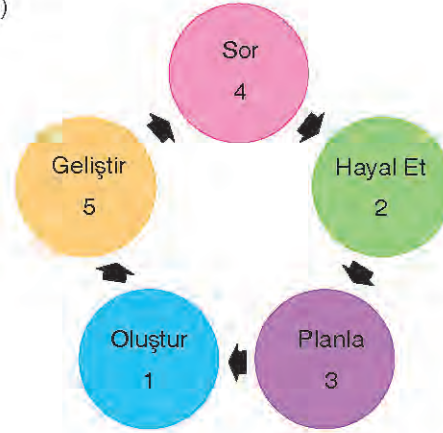
B)



C)



D)



13.


## “ÇİNGENE KIZI”NIN GİZEMLİ HİKÂYESİ

Gaziantep'in simgelerinden biri hâline gelen “Çingene Kızı” mozaığının yıllar önce yurt dışına kaçırılan kayıp parçaları, uzun bir aradan sonra evine dönüyor.

### “ÇİNGENE KIZI” MOZAIĞI

Zeugma Antik Kenti'nde bulunan bir villanın yemek odasının taban mozağıdır.

15 metre karelik mozaığın büyük bölümü tahrip edilmiş.



Kulağındaki küpeler, iri gözleri ve başındaki bağ nedeniyle “Çingene Kızı” olarak adlandırılıyor.

Zeugma mozaiklerinin simgesi hâline geldi.

### ZEUGMA ANTİK KENTİ

Gaziantep'in Nizip ilçesine bağlı Belkıs Mahallesi sınırlarında 20 bin dönüm arazi üzerine kurulu

MÖ 2. ve 3. yüzyıllara tarihlenen muhteşem mozaiklerle süslenmiş Roma evlerini bünyesinde barındırıyor.

## “ÇİNGENE KIZI”NIN HİKÂYESİ

**1960**  
Zeugma Mozaikleri, 1960'lı yıllarda kaçak kazılar sırasında parçalanarak, yasa dışı yollarla yurt dışına kaçırıldı.

**1965**  
Bowling Green Devlet Üniversitesince 35 bin dolar karşılığında Peter Marks isimli sanat tacirinden satın alınan mozaikler, o tarihten bu yana üniversitede sergileniyordu.

**1998**  
Çingene Kızı mozaığı Zeugma Antik Kenti'nde devrilen bir sütunun kaldırılmasıyla tesadüfen bulundu. Parçaları 1960'lı yıllarda yurt dışına kaçırılan mozaığı, kaçakçıların üzerindeki sütun nedeniyle fark etmediği belirlendi.

**2012**  
Bowling Green State Üniversitesinde sergilenen mozaiklerin, Çingene Kızı mozaığının parçaları olduğu belirlendi ve resmî olarak mozaiklerin Türkiye'ye iadesi istendi.

**2018**  
“Çingene Kızı”na ait mozaik parçaları 26 Kasım'da Gaziantep'e getirildi.

Verilen bilgiden yararlanarak aşağıdakilerden hangisi yanlıştır?

- A) Zeugma Antik Kenti'nde bulunan bir villanın yemek odasının taban mozağıdır.
- B) Zeugma Antik Kenti, Gaziantep'in Nizip ilçesine bağlı 30 bin dönüm arazi üzerinde kurulmuştur.
- C) Mozaığın "Çingene Kızı" olarak adlandırılmasının sebebi küpeleri, iri gözleri ve başındaki bağıdır.
- D) Zeugma mozaikleri, 1960'lı yıllarda kaçak kazı yapanlar tarafından parçalanarak yurt dışına kaçırılmıştır.

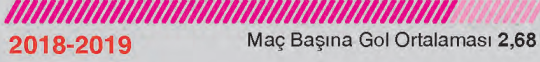


14.

## SÜPER LİG'İN GOL DOSYASI

**821 GOL**

Toplam Gol Sayısı



Maç Başına Gol Ortalaması 2,68

**906 GOL**

Toplam Gol Sayısı



Maç Başına Gol Ortalaması 2,96

**72**

 En fazla gol atan  
takımlar:  
Galatasaray ve Beşiktaş

**28**

 En az gol atan  
takım:  
Bursaspor

**62**

 En fazla gol yiyen  
takım:  
Kasımpaşa

**47**

 Sahasında en fazla  
gol atan takım:  
Galatasaray

**34**

 En fazla gol atılan  
hafta:  
24. hafta

**14**

 En fazla gol atılan  
hafta:  
9. hafta

**35**

 Deplasmanda en  
fazla gol atan takım:  
Beşiktaş

Ligde 2018-2019 sezonunda fileler 821 kez havalanırken maç başına gol ortalaması 2,68 olarak gerçekleşti. Toplam gol sayısı önceki 4 sezonun gerisinde kaldı.

**GALATASARAY**  
MBAYE DIAGNE  
30 GOL

**ÇAYKUR RİZESPOR**  
VEDAT MURIC  
17 GOL

**BESİKTAŞ**  
BURAK YILMAZ  
16 GOL

**ALANYASPOR**  
PAPISS CISSE  
16 GOL


- I. 2018-2019 yılında toplam 821 gol atılmıştır.
- II. En fazla gol atan takımlar Galatasaray ve Kasımpaşa'dır.
- III. Çaykur Rizespor'da oynayan Vedat Muric 18 gol atmıştır.
- IV. Sahasında en fazla gol atan takım Galatasaray'dır.

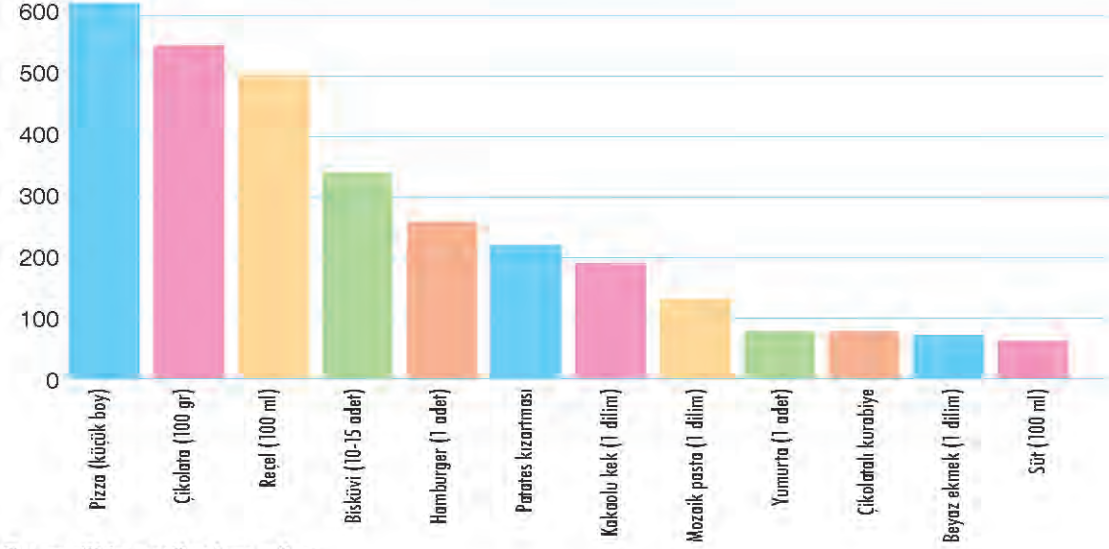
Yukarıda numaralanmış bilgilerden hangileri yanlıştır?

- A) Yalnız I  
B) Yalnız II  
C) II ve III  
D) I ve IV

15.

**SEÇİLİ GIDA ÜRÜNLERİNE GÖRE KALORİ MİKTARI**

Sağlık Bakanlığı verilerine göre bir küçük boy pizza 620 kaloridir.

**Bu grafikte verilenlere göre**

- I. Bir yumurta ile bir dilim ekmeğin kalorisi, bir adet çikolatalı kurabiye ile 100 ml sütün kalorisinden fazladır.
- II. İki adet hamburgerin kalorisi, 10 - 15 adet bisküviden azdır.
- III. Grafikteki en kalorili besin, pizzadır.
- IV. Bir dilim beyaz ekmeç ile 100 ml sütün kalorisi aynıdır.

**yargılarından hangileri doğrudur?**

- A) I ve III                      B) I ve II                      C) III ve IV                      D) Yalnız IV

16.

| Ürün Kodu | En | Derinlik | Boy |
|-----------|----|----------|-----|
| AR15      | 15 | 56       | 72  |
| AR20      | 20 | 56       | 110 |
| AR25      | 15 | 40       | 85  |
| AR30      | 30 | 56       | 73  |
| AR35      | 35 | 60       | 72  |
| AR40      | 40 | 56       | 60  |

Osman Bey, evine dolap yaptıracaktır. Usta, kendisine dolapların ürün kodunun ve ölçülerinin bulunduğu bir tablo vermiştir. Osman Bey, hangi ölçülerde dolap istediğini ustaya şöyle tarif etmiştir:

\* Boyu, 100 cm'den az, 70 cm'den fazla olsun.

\*Derinlik, 50 cm'den fazla olsun.

\*En, 20 cm'den az olsun.

**Buna göre, Osman Bey'in istediği ölçülere uygun olan ürünün kodu aşağıdakilerden hangisidir?**

- A) AR35                      B) AR40                      C) AR25                      D) AR15